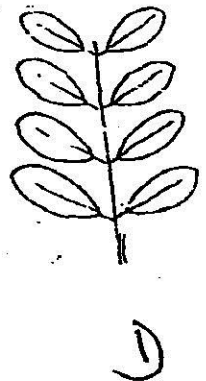
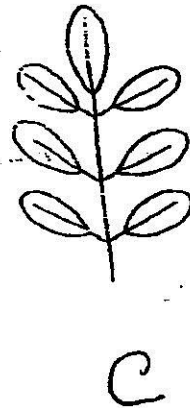
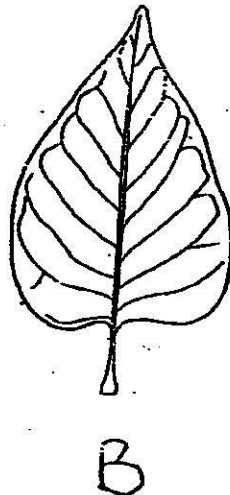
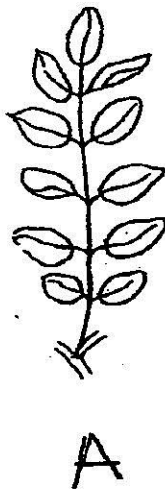


ARCHEOLOGIE : Epreuve de Botanique et Palynologie
Licence Archéologie
Année scolaire: 2019-2020 - Durée : 2 h

Botanique (12 points)

- 1- Donner le nom des feuilles en reprenant les lettres A, B, C et D (2 points)
- 2- Citer les unités systématiques utilisées en Botanique (3 points)
- 3- Donner la classe des plantes suivantes : avocatier, palmier à huile, igname, arachide (2 points)
- 4- La plante est indispensable à l'homme, êtes-vous de cet avis ? (2 points)
- 5- Les différents types de feuilles (3 points)



Palynologie (8 points)

- 1°- Définir le terme palynologie et que signifie-t-il étymologiquement? (1,5pts)
- 2°- Dites de façon succincte, l'intérêt de la Palynologie pour l'Archéologie? (1,5pts)
- 3°- Comment le palynologue prélève les échantillons sur un site archéologique? (1pt)
- 4°- Donner le nom de la substance chimique qui permet au grain de pollen de conserver sa structure même pendant des milliers d'années (0,5pt)
- 5°- Quelles sont les différentes ouvertures qu'on peut rencontrer au niveau d'un grain de pollen? Faites en les schémas dans un grain de pollen. (1,5pts)
- 6°- Citer les différents facteurs de dispersion des grains de pollen? (2pts)